



Oefen vrae

Graad 7
CLASS

jy moet hierdie vraag of vrae op een van twee maniere doen:

- 1) as jy nie weet wat om te doen nie, bespreek dit met my op die groep*
- 2) as jy dit wel gedoen het, of probeer het, sit 'n foto op die groep.*

Teken 'n figuur wat 'n omtrek het van 20cm

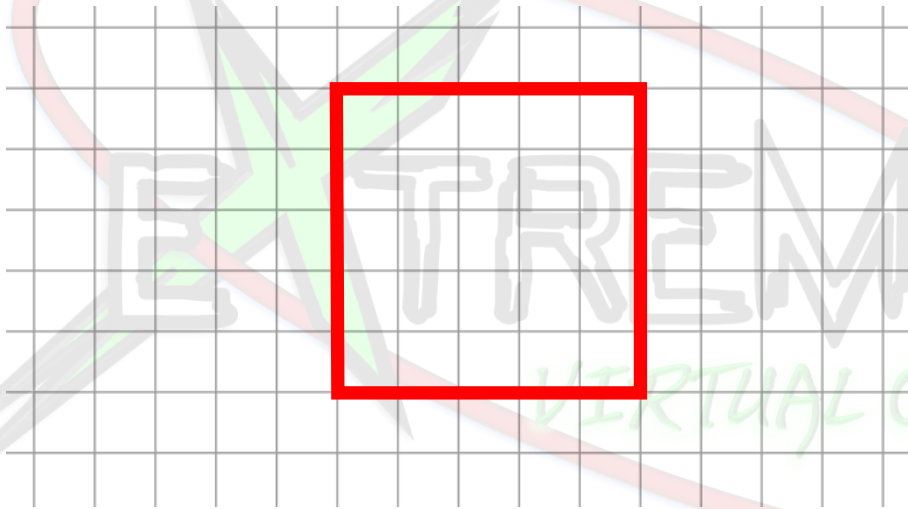
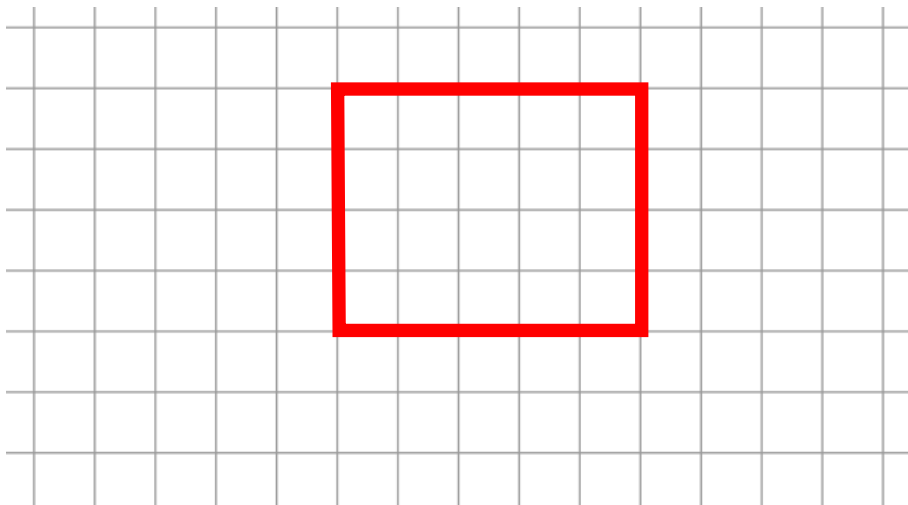


Figure soos hierdie dui duidelik aan wat die verskil is tussen omtrek en oppervlakte

Teken 'n figuur wat 'n oppervlakte het van 20cm^2





Oefen vrae

Graad 7
CLASS

jy moet hierdie vraag of vrae op een van twee maniere doen:

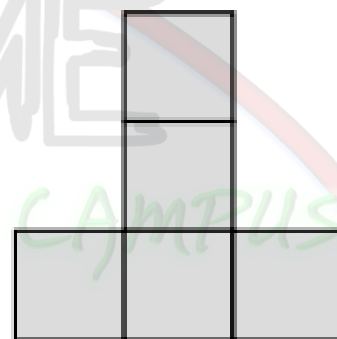
- 1) as jy nie weet wat om te doen nie, bespreek dit met my op die groep*
- 2) as jy dit wel gedoen het, of probeer het, sit 'n foto op die groep.*

Bepaal die oppervlakte en omtrek van hierdie twee figure



Omtrek: 16

Oppervlakte: 7



Omtrek: 12

Oppervlakte: 5

